

**PRUEBAS DE HABILITACIÓN PARA EL ACCESO
A OTRAS CATEGORÍAS PROFESIONALES,
CONVOCADAS POR RESOLUCIÓN DE 14 DE
SEPTIEMBRE DE 2021 (B.O.A DEL 17), DEL
DIRECTOR GENERAL DE LA FUNCIÓN PÚBLICA
Y CALIDAD DE LOS SERVICIOS**

GUÍA INFORMADOR

**EJERCICIO
PRÁCTICO**

Fecha del ejercicio: 19.11.2022


1. Indique el orden correcto del significado de los siguientes iconos:




1



2



3



4

- A) 1 Cueva; 2 Barranco; 3 Hoces; 4 Sima.
- B) 1 Barranco; 2 Cueva; 3 Sima; 4 Hoces.
- C) 1 Hoces; 2 Cueva; 3 Sima; 4 Barranco.
- D) 1 Sima; 2 Cueva; 3 Barranco; 4 Hoces.

2. Según la web del Parque Nacional de Ordesa y Monte Perdido, ¿cuál de las rutas marcadas corresponde a la ruta de los Miradores del Molar?:



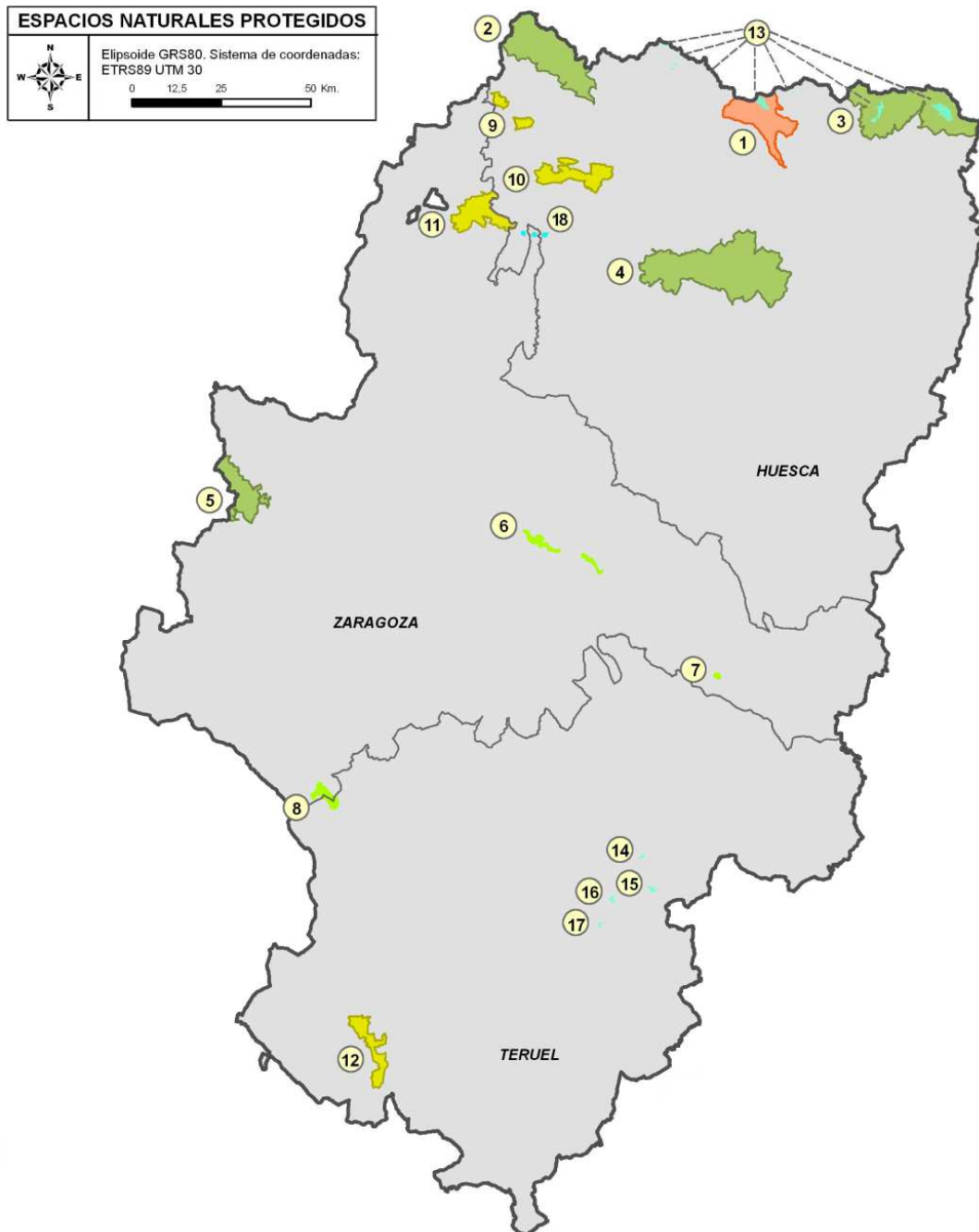
- A) La 1.
- B) La 2.
- C) La 3.
- D) La 4.

3. ¿A qué ruta del Parque Nacional de Ordesa y Monte Perdido corresponde la cascada de la siguiente imagen?:



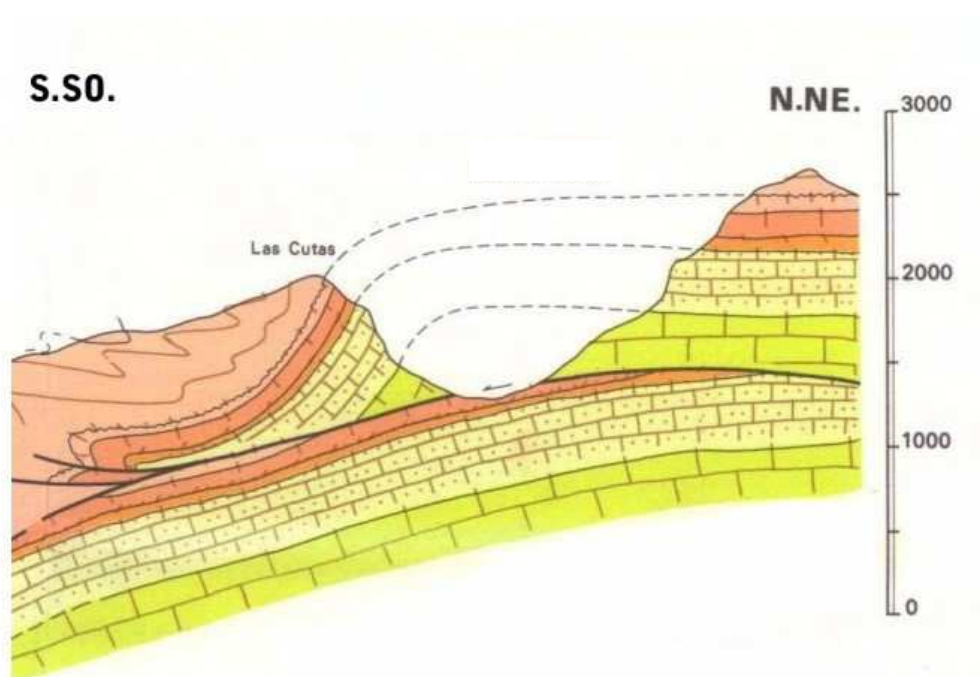
- A) A la ruta de la Cascada de la Cola de Caballo.
- B) A la ruta de la Cascada del Cinca.
- C) A la ruta de la Cascada de Soaso.
- D) A la ruta de la Cascada del Pozo de las Truchas.

4. Indique a qué espacio natural protegido corresponde el marcado con el número 12 en el mapa de Espacios Naturales Protegidos de Aragón:



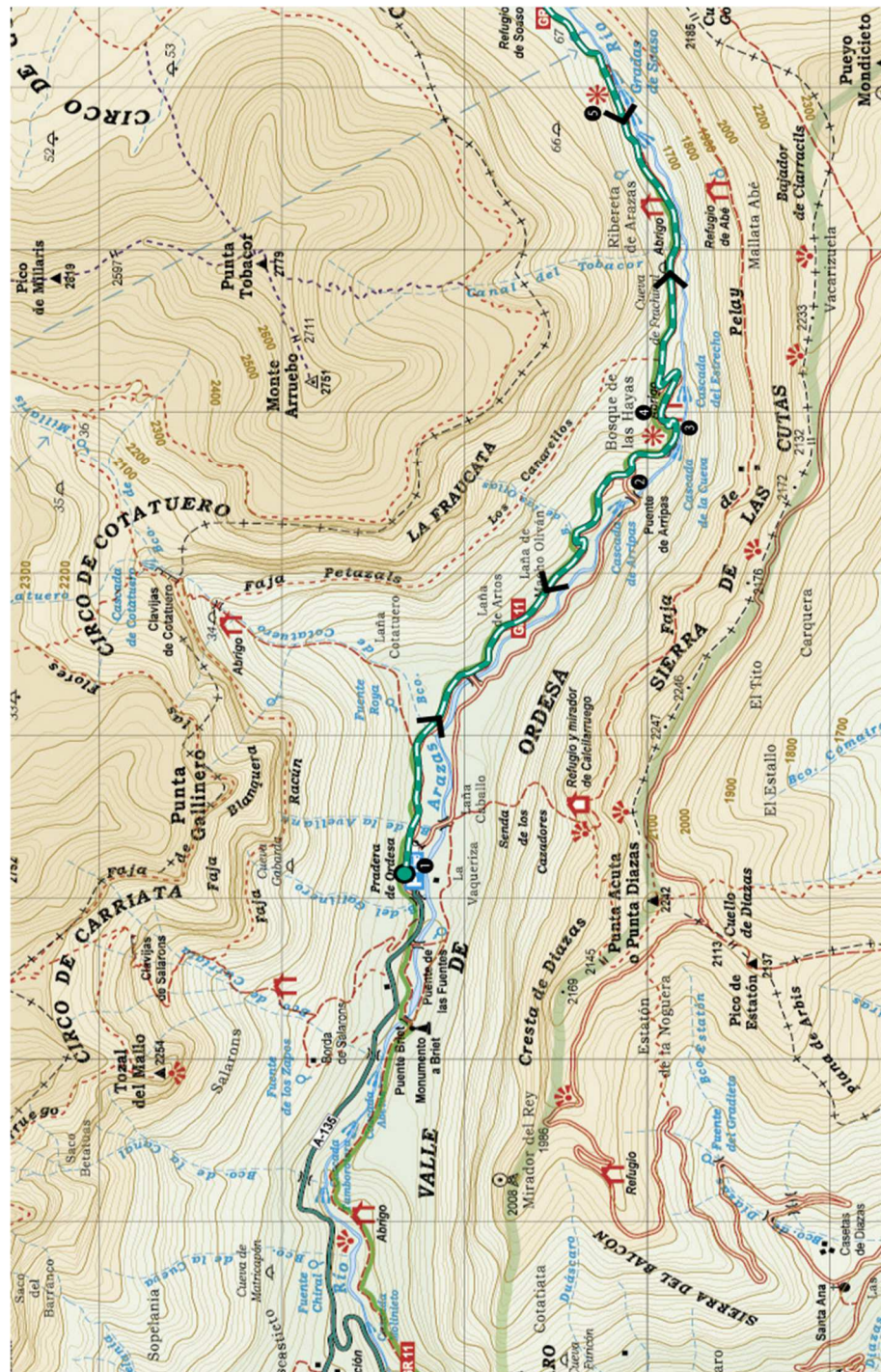
- A) Al Parque Natural de Posets-Maladeta.
- B) A la Reserva Natural de las Saladas de Chiprana.
- C) Al Monumento Natural de los Órganos de Montoro.
- D) Al Paisaje Protegido de los Pinares de Rodeno.

5. Indique la afirmación CORRECTA. La foto y el corte estratigráfico siguientes corresponden:



- A) Al Cañón de Añisclo, protegido por paredes de yesos nodulares.
- B) Al Cañón de Ordesa, protegido por paredes de calizas.
- C) Al Cañón de Guara, protegido por paredes de calizas.
- D) Al Cañón de Ordesa, protegido por paredes de calicatas.

6. ¿A qué ruta del Parque Nacional de Ordesa y Monte Perdido corresponde la indicada en el siguiente mapa?:



- A) A la Cola de Caballo por las Gradas de Soaso.
- B) Al Sendero adaptado de la Pradera de Ordesa.
- C) A la Cola de Caballo por la Faja de Pelay.
- D) A la Cola de Caballo por las Gargantas de Escuaín.

7. ¿Cuál de las siguientes siluetas de aves corresponde con la de un milano?:

A)



B)



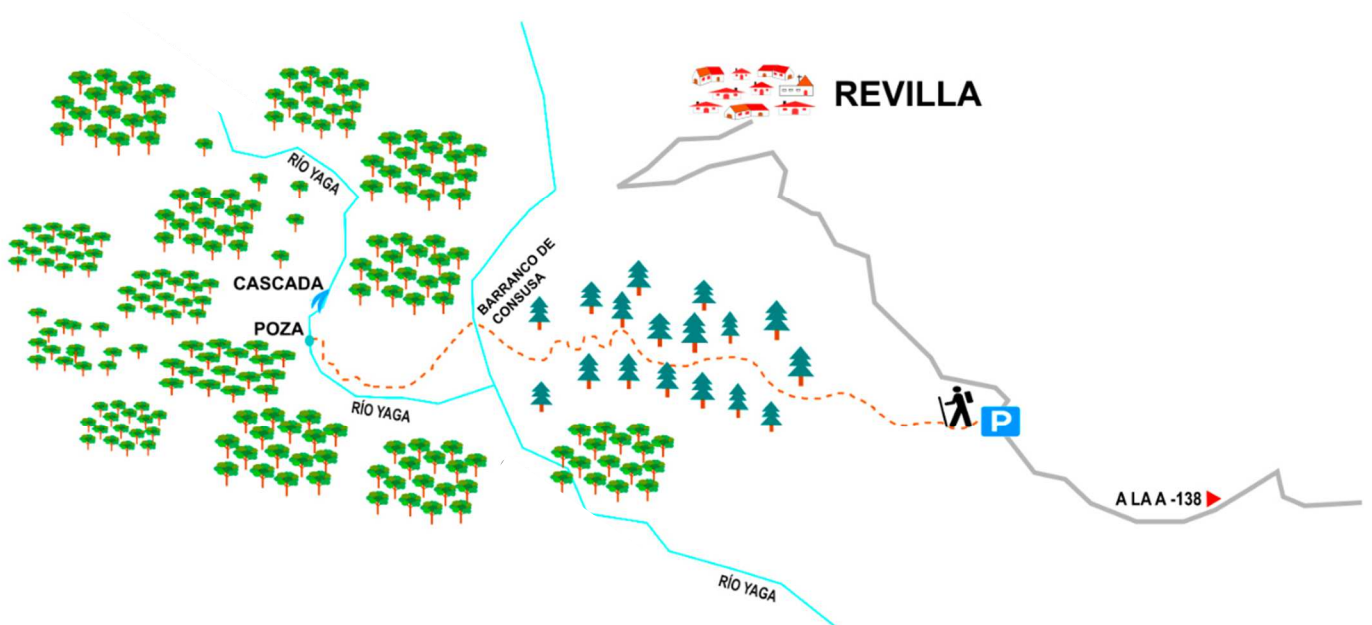
C)



D)

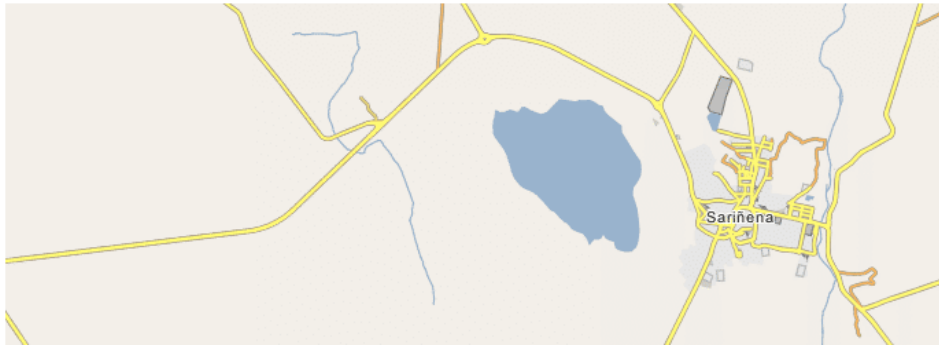


8. ¿A qué ruta del Parque Nacional de Ordesa y Monte Perdido corresponde el siguiente mapa?:




- A) A la ruta por las Gargantas de Escuaín.
- B) A la ruta por el Valle de Bujaruelo.
- C) A la ruta por el Cañón del Añisclo.
- D) A la ruta por el Valle de Pineta.

9. Dentro de los Espacios Naturales Protegidos en Aragón se encuentra el Refugio de Fauna Silvestre de la Laguna de Sariñena, caracterizada por ser de las pocas lagunas endorreicas en España, que se encuentra entre las cuencas de los ríos:






- A) Flumen y Cinca.
- B) Flumen y Aura.
- C) Flumen y Alcanadre.
- D) Cinca y Yaga.

10. De las siguientes imágenes, ¿cuál corresponde a los tres picos famosos que conforman "Las Tres Sorores" o los "Treserols" del Macizo del Monte Perdido?:




PREGUNTAS DE RESERVA

11. ¿Cuál de los siguientes paisajes arbóreos es un bosque de pino negro?:



12. ¿Cuál de las siguientes huellas se identificarán como pertenecientes a un zorro (*Vulpes vulpes*)?:

A)



B)



C)



D)

